



le 16 janvier – le 20 janvier



Directives: Copies les questions et répons-les sur une feuille mobile ou imprimer cette page et écris tes réponses là-dessus.

lundi

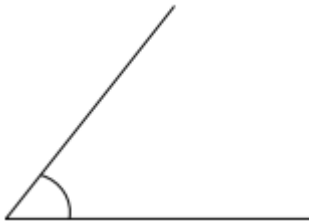
Répondre aux questions suivantes :

- a) Comment s'appelle un angle qui mesure exactement 90° ? **un angle droit**
- b) Comment s'appelle un angle qui mesure moins que 90° ? **un angle aigu**
- c) Comment s'appelle un angle qui mesure exactement 180° ? **un angle plat**
- d) Comment s'appelle un angle qui mesure plus que 90° mais moins que 180° ? **un angle obtus**
- e) Comment s'appelle un angle qui mesure plus que 180° ? **un angle rentrant**

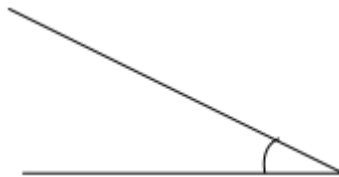
mardi

Nommer les angles suivants :

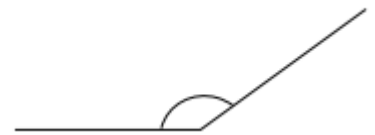
a) **aigu**



b) **aigu**



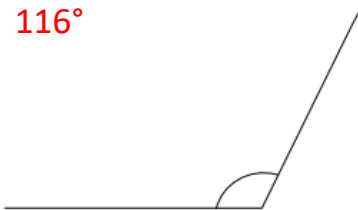
c) **obtus**



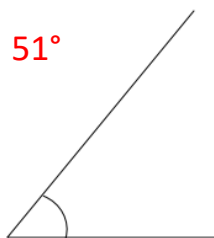
mercredi

Mesurer les angles suivants :

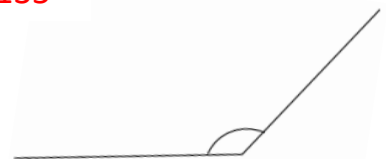
a) **116°**



b) **51°**



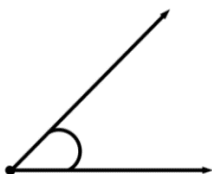
c) **135°**



jeudi

Construire les angles suivants:

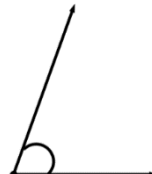
a) 45°



b) 125°



c) 70°



d) 160°

