



le 23 janvier – le 27 janvier



Directives: Copies les questions et répons-les sur une feuille mobile ou imprimer cette page et écris tes réponses là-dessus.

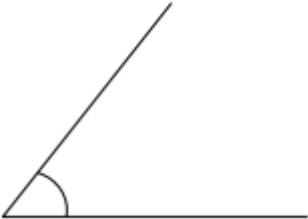
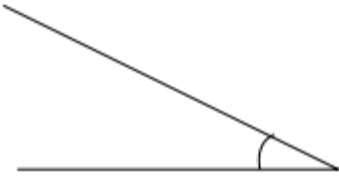

lundi

Répondre aux questions suivantes :

- a) Comment s'appelle un angle qui mesure exactement 90° ?
- b) Comment s'appelle un angle qui mesure moins que 90° ?
- c) Comment s'appelle un angle qui mesure exactement 180° ?
- d) Comment s'appelle un angle qui mesure plus que 90° mais moins que 180° ?
- e) Comment s'appelle un angle qui mesure plus que 180° ?

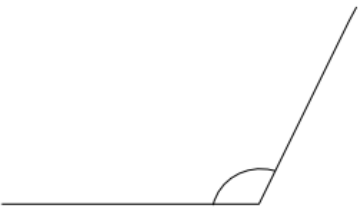
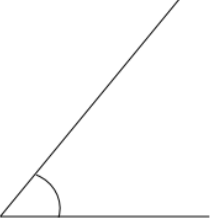
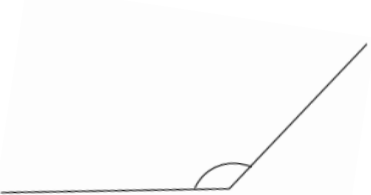
mardi

Nommer les angles suivants :

- a)  b)  c) 

mercredi

Mesurer les angles suivants :

- a)  b)  c) 

jeudi

Construire les angles suivants:

- a) 45°
- b) 125°
- c) 70°
- d) 160°