



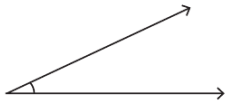
le 6 février – le 9 février



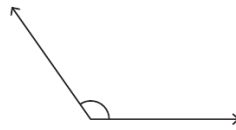
Directives: Copies les questions et répons-les sur une feuille mobile ou imprimer cette page et écris tes réponses là-dessus.

lundi

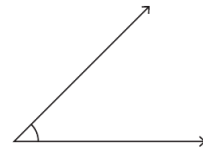
Nommer et mesurer les angles suivants :



Angle : 25° _



Angle : 125°

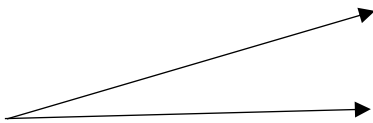


Angle : 45° _

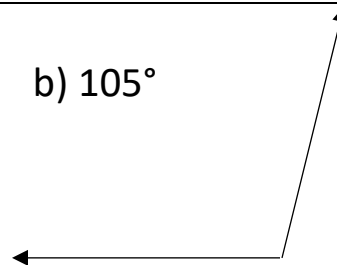
mardi

Construire les angles suivants :

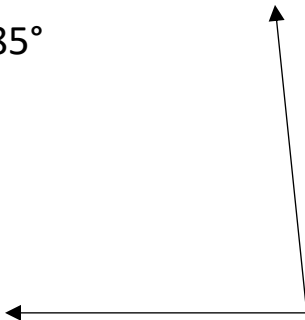
a) 15°



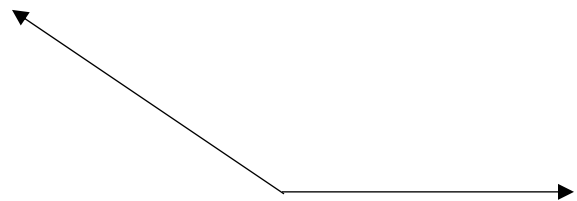
b) 105°



c) 85°

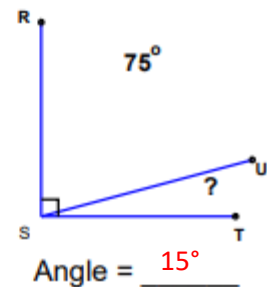
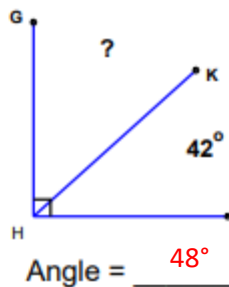
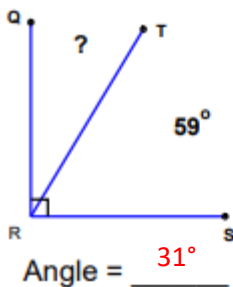


d) 145°



mercredi

Résoudre les angles complémentaires :



jeudi

Résoudre les angles supplémentaires :

