


Comment calcules-tu un problème de mathématique ?

$$500 + 300 + 40$$

Avec un papier-crayon ?

C'est souvent plus rapide et plus facile de calculer dans ta tête !




Essaie de faire ce calcul dans ta tête.

Fais une étape à la fois.

$$400 + 200 + 50$$


L'astuce, c'est d'y aller étape par étape.

Comme ça, tu n'as qu'un nombre à garder en mémoire.



Jongle avec les chiffres

Fais une étape à la fois.



1. $300 + 200 + 40$

2. $600 + 100 + 20$

3. $500 + 30 + 400$

4. $7000 + 2000 + 500$

5. $4000 + 5000 + 400$

6. $6000 + 100 + 2000$

7. $600 + 4000 + 300$

8. $500 + 20 + 3000$

9. $50 + 400 + 30 + 5000$

10. $400 + 2000 + 60 + 500$

GYMNASTIQUE MENTALE A

Nom : _____

Date : _____

1. $200 + 300 =$ _____
2. $500 + 400 =$ _____
3. $600 + 500 =$ _____
4. $700 + 800 =$ _____
5. $300 + 200 + 500 =$ _____
6. $200 + 100 + 400 =$ _____
7. $700 + 300 + 200 =$ _____
8. $100 + 500 + 600 =$ _____
9. $3000 + 4000 + 1000 =$ _____
10. $7000 + 3000 + 2000 =$ _____
11. $200 + 400 + 50 =$ _____
12. $300 + 700 + 20 =$ _____
13. $500 + 300 + 70 =$ _____
14. $400 + 50 + 300 =$ _____
15. $100 + 30 + 600 =$ _____
16. $5000 + 400 + 2000 =$ _____
17. $7000 + 300 + 200 =$ _____
18. $4000 + 300 + 1000 =$ _____
19. $700 + 3000 + 50 =$ _____
20. $4000 + 2000 + 50 + 40 =$ _____

**POUR SE
METTRE
EN FORME**

J'ai quatre pièces de monnaie dans ma poche. Au total, elles valent 80¢. Quelles sont ces pièces ?

**GYMNASTIQUE MENTALE B**

Nom : _____

Date : _____

1. $200 + 600 + 50 =$ _____
2. $300 + 800 + 90 =$ _____
3. $30 + 700 + 500 =$ _____
4. $50 + 800 + 400 =$ _____
5. $700 + 100 + 90 =$ _____
6. $900 + 40 + 500 =$ _____
7. $600 + 800 + 20 =$ _____
8. $300 + 70 + 500 =$ _____
9. $700 + 600 + 50 + 40 =$ _____
10. $800 + 700 + 30 + 20 =$ _____
11. $300 + 7000 + 50 =$ _____
12. $1000 + 90 + 500 =$ _____
13. $800 + 70 + 5000 =$ _____
14. $4000 + 600 + 6000 =$ _____
15. $900 + 80 + 2000 =$ _____
16. $300 + 7000 + 400 + 50 =$ _____
17. $200 + 80 + 8000 =$ _____
18. $100 + 50 + 4000 + 2000 =$ _____
19. $6000 + 400 + 300 + 2000 =$ _____
20. $5000 + 20 + 2000 + 100 =$ _____

**POUR SE
METTRE
EN FORME**

J'ai cinq pièces de monnaie dans ma poche. Au total, elles valent 55¢. Quelles sont ces pièces ?